


Муниципальный этап всероссийской олимпиады школьников по основам безопасности жизнедеятельности в 2019-2020 учебном году

9 класс

Тестовые задания

№ п/п	Тестовые задания	Макс. балл	Кол-во набранных баллов
1	2	3	4
Определите один правильный ответ			
1.	День спасателя в Российской Федерации отмечается: а) 27 декабря; б) 4 октября; в) 1 марта.	1	
2.	 Изображенный знак международной кодовой таблицы сигналов означает: а) нужен врач, серьезная травма; б) нужны медикаменты; в) нужна пища и вода.	1	
3.	Главная опасность борщевика Сосновского в том, что он может вызвать: а) ожоги на коже; б) пищевое отравление; в) резанные раны.	1	
4.	Режимов функционирования РСЧС существует: а) два; б) три; в) пять.	1	
5.	Система мер по подготовке к вооруженной защите государства, которая регламентируется специальным федеральным законом – это: а) оборона; б) гражданская оборона; в) военная подготовка.	1	
6.	Оптимальными условиями для возникновения лавин складываются на склонах крутизной: а) 20-30°; б) 30-40°; в) 40-50°.	1	
7.	Сильный ветер в каждой стране называется по-своему. Укажите ошибку в данных примерах: а) бег-виз; б) бери-бери; в) вилли-вилли.	1	
8.	Явление «межень» всегда сменяет: а) затор льда; б) половодье; в) паводок.	1	
9.	Зона опасного заражения условно обозначается: а) зона Г; б) зона В; в) зона Б.	1	
10.	МЧС России для тушения лесных и технических пожаров не использует самолеты типа: а) Бе-200; б) Ил-76ДТП; в) Ан-74П.	1	

Определите все правильные ответы			
11.	Какие из периодов времени соответствуют наивысшему уровню работоспособности: а) с 6 до 10 ч; б) с 10 до 12 ч; в) с 12 до 16 ч; г) с 16 до 18 ч.	2	
12.	К АХОВ быстрого действия относят: а) аммиак; б) хлор; в) фосген; г) сероводород.	2	
13.	Ураганы наносят большой вред сельскому хозяйству, транспорту и промышленности, перенося: а) песок; б) влагу; в) пыль; г) космические микрочастицы.	2	
14.	Для управления мопедом необходимо иметь водительское удостоверение категорий: а) «А» или «В»; б) только «М»; в) «В» или «М»; г) Только «А».	2	
15.	Характерными для взрыва поражающими факторами являются: а) высокая температура; б) осколочные поля; в) волна прорыва; г) ударная волна.	2	
16.	В структуру национальной безопасности не входит: а) личная безопасность; б) экологическая безопасность; в) геологическая безопасность; г) политическая безопасность; д) энергобезопасность.	3	
17.	Картографические условные знаки по масштабности принято делить на: а) масштабные; б) немасштабные; в) немасштабные; г) пояснительные; д) информационные.	3	
18.	Признаками наркотического отравления являются: а) тошнота и рвота; б) повышение мышечного тонуса; в) головокружение; г) сужение зрачков и их реакции на свет; д) покраснение кожи.	3	
19.	В Российской Федерации установлены следующие виды налогов и сборов: а) национальные; б) федеральные; в) региональные; г) территориальные; д) местные.	3	
20.	К стратегиям поведения в конфликтных ситуациях относятся: а) соперничество; б) уход; в) заигрывание; г) уступка; д) манипулирование.	3	

Письменные задания

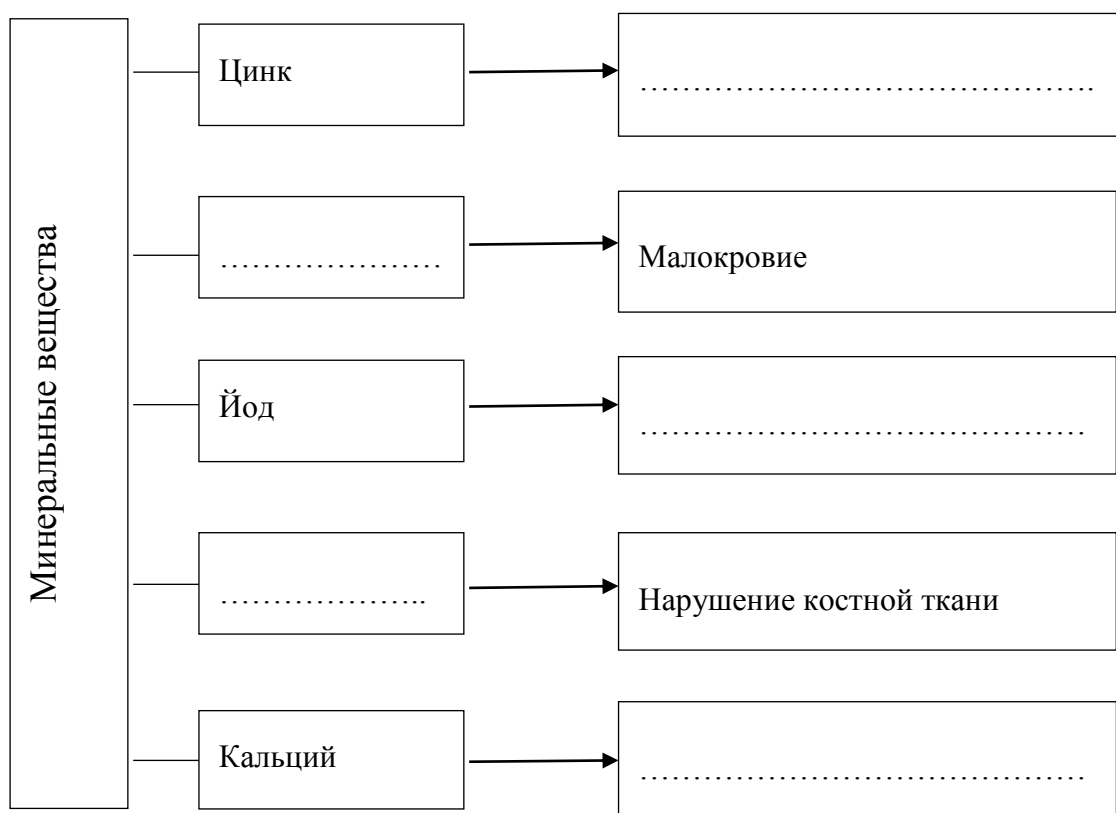
Задание 1.

Дополните фразу.

_____ поведение - это устойчивое поведение личности, отклоняющееся от общепринятых, наиболее распространённых и устоявшихся общественных норм. Негативная форма приводит к применению обществом определённых формальных и неформальных санкций (изоляция, лечение, исправление или наказание нарушителя).

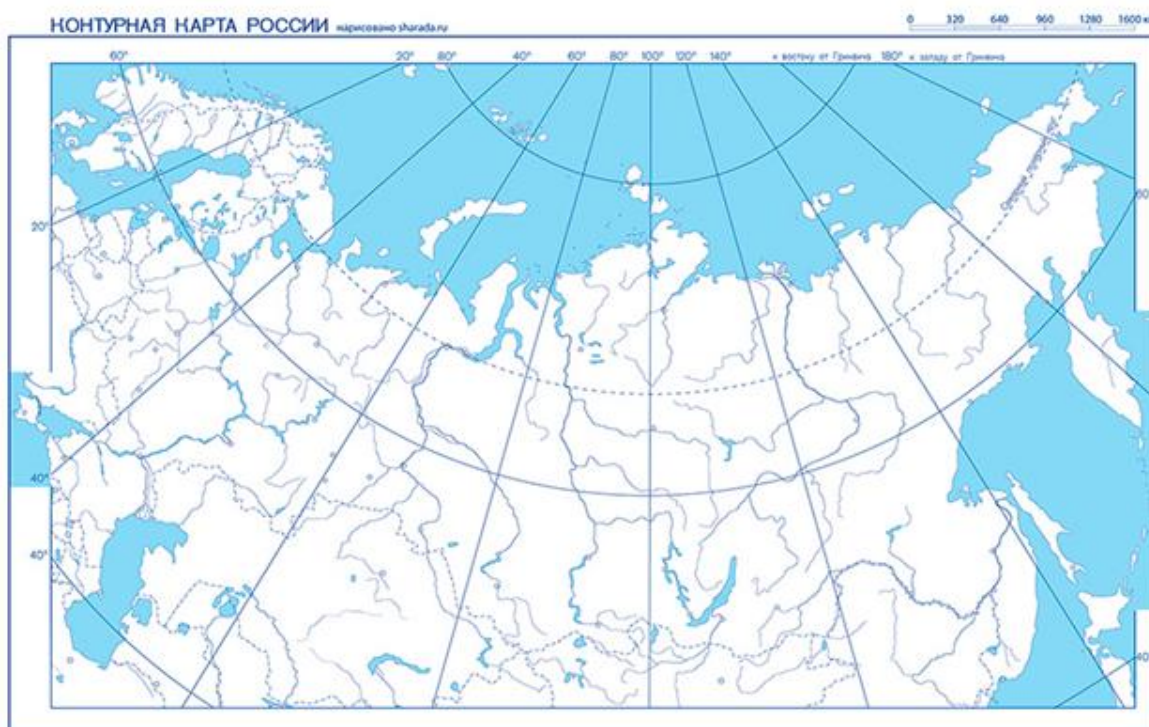
Задание 2.

Дополните схему о последствиях, которые вызывают недостаток в пище минеральных веществ.



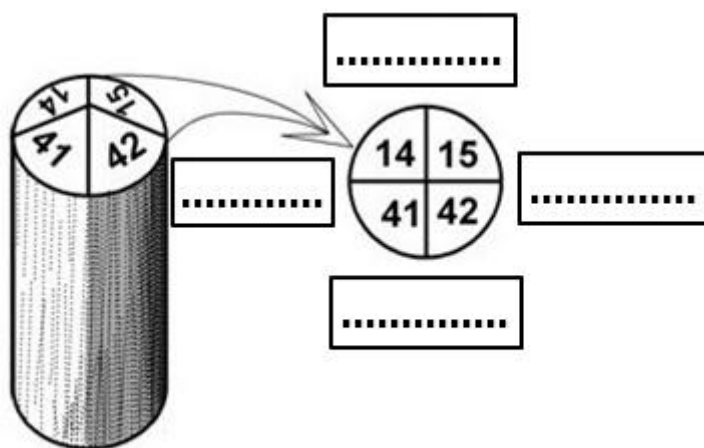
Задание 3.

Выделите (обведите или закрасьте) на контурной карте сейсмоопасные районы РФ.



Задание 4.

Укажите стороны горизонта, используя изображение квартального столба.



Задание 5.

Укажите превышение (в процентах) избыточной массы тела от нормальной при ожирении различной степени

I степень	II степень	III степень	IV степень
.....

Задание 6.

В чрезвычайных ситуациях люди в зависимости от темперамента могут вести себя по разному. Опишите это поведение.

Холерики_____

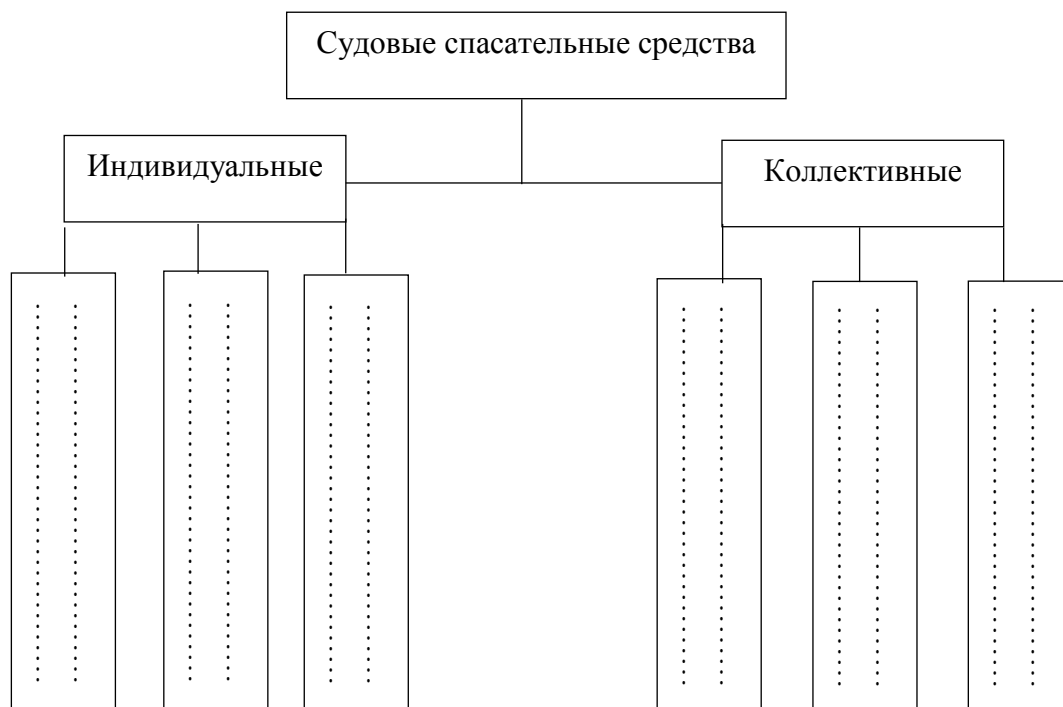
Меланхолики_____

Сангвиники_____

Флегматики_____

Задание 7.

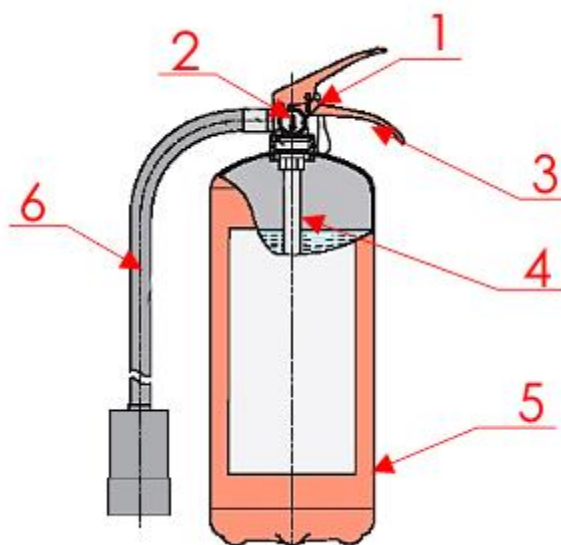
Дополните схему о судовых спасательных средствах



Задание 8.

Напишите название основных частей воздушно-пенного огнетушителя

1. _____
2. _____
3. _____
4. _____
5. _____
6. _____



Задание 9.

Укажите группы критических органов радиочувствительности.

☐ Хрусталик глаза

☐ Кожный покров

☐ Легкие

☐ Красный костный мозг

☐ Почки

☐ Печень

☐ Желудок, кишечник

☐ Предплечья

☐ Половые органы

☐ Кисти рук

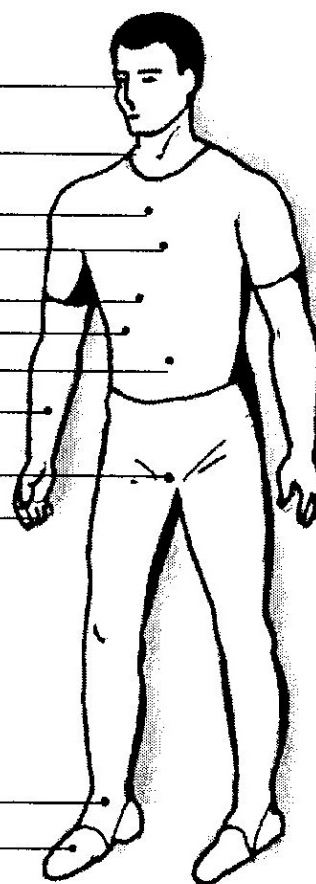
☐ I 1-я группа

☐ II 2-я группа

☐ III 3-я группа

☐ Лодыжки

☐ Стопы



Задание 10.

Изобразите формы зон поражения при различной скорости ветра. Укажите их названия.

При скорости ветра			
Менее 0,5 м/с	0,6-1 м/с	1,1-2 м/с	Свыше 2 м/с
.....

Задание 11.

Установите с помощью стрелок соответствие представленных грибов группам по съедобности.

						
Валуй	Сыроежка красивая	Желчный гриб	Сыроежка охристая	Свинушка толстая	Серушка	Трутовик березовый

		
Съедобные	Условно-съедобные	Несъедобные

						
Белый гриб	Белянка	Лисичка	Сморчок конический	Мухомор яйцевидный	Строчок осенний	Рыжик

Задание 12.

Изложите правила нанесения прекардиального удара по груди.

1. _____

2. _____

3. _____

4. _____

5. _____

6. _____
