


Муниципальный этап всероссийской олимпиады школьников по основам безопасности жизнедеятельности в 2019-2020 учебном году
7-8 классы

Теоретические задания для младшей возрастной группы

Тестовые задания

№ п/п	Тестовые задания	Макс. балл	Кол-во набранных баллов
1	2	3	4
<i>Определите один правильный ответ</i>			
1.	Противогаз может быть в положениях: а) «походном», «боевом», «наготове»; б) «на плече», «на боку», «на голове»; в) «на ремне», «на тесьме», «в сумке».	1	
2.	<div style="display: inline-block; vertical-align: middle; text-align: center;">  </div> Изображенный знак международной кодовой таблицы сигналов означает: а) нужен врач, серьезная травма; б) нужны медикаменты; в) нужна пища и вода.	1	
3.	Главная опасность борщевика Сосновского в том, что он может вызвать: а) ожоги на коже; б) пищевое отравление; в) резаные раны.	1	
4.	Наибольшее влияние на развитие физической выносливости человека влияют занятия: а) ходьбой; б) бегом; в) футболом.	1	
5.	Система мер по подготовке к вооруженной защите государства, которая регламентируется специальным федеральным законом – это: а) оборона; б) гражданская оборона; в) военная подготовка.	1	
6.	Оптимальными условиями для возникновения лавин складываются на склонах крутизной: а) 20-30°; б) 30-40°; в) 40-50°.	1	
7.	Сильный ветер в каждой стране называется по-своему. Укажите ошибку в данных примерах: а) бег-виз; б) бери-бери; в) вилли-вилли.	1	
8.	Явление «межень» всегда сменяет: а) затор льда; б) половодье; в) паводок.	1	
9.	Самые первые правила дорожного движения появились: а) в Древнем Риме; б) в Древней Греции; в) в Древней Спарте.	1	
10.	МЧС России для тушения лесных и технических пожаров не использует самолеты типа: а) Бе-200; б) Ил-76ДТП; в) Ан-74П.	1	

Определите все правильные ответы			
11.	Какие из периодов времени соответствуют наивысшему уровню работоспособности: а) с 6 до 10 ч; б) с 10 до 12 ч; в) с 12 до 16 ч; г) с 16 до 18 ч.	2	
12.	К АХОВ быстрого действия относят: а) аммиак; б) хлор; в) фосген; г) сероводород.	2	
13.	Ураганы наносят большой вред сельскому хозяйству, транспорту и промышленности, перенося: а) песок; б) влагу; в) пыль; г) космические микрочастицы.	2	
14.	Характерными для взрыва поражающими факторами являются: а) высокая температура; б) осколочные поля; в) волна прорыва; г) ударная волна.	2	
15.	Какие лекарственные растения используется для остановки кровотечения и обеззараживания ран: а) тысячелистник; б) череда; в) сок полыни; г) сок подорожника.	2	
16.	Картографические условные знаки по масштабности принято делить на: а) масштабные; б) немасштабные; в) немасштабные; г) пояснительные; д) информационные.	3	
17.	В структуру национальной безопасности не входит: а) личная безопасность; б) экологическая безопасность; в) геологическая безопасность; г) политическая безопасность; д) энергобезопасность.	3	
18.	Если вы оказались в помещении во время взрыва необходимо: а) упасть на пол, закрыв голову руками и поджав под себя ноги; б) плотно прижаться к капитальной стене; в) как можно скорее покинуть это помещение и здание; г) встать в проеме капитальной стены; д) ни в коем случае не пользоваться лифтом.	3	
19.	Из-за неправильной осанки могут развиваться: а) сколиоз; б) остеопороз; в) кифоз; г) остеохондроз; д) лордоз.	3	
20.	К продуктам, которые повышают настроение относят: а) шоколад; б) соевые продукты; в) кофе; г) рыба; д) жевательная резинка и конфеты.	3	

Письменные задания

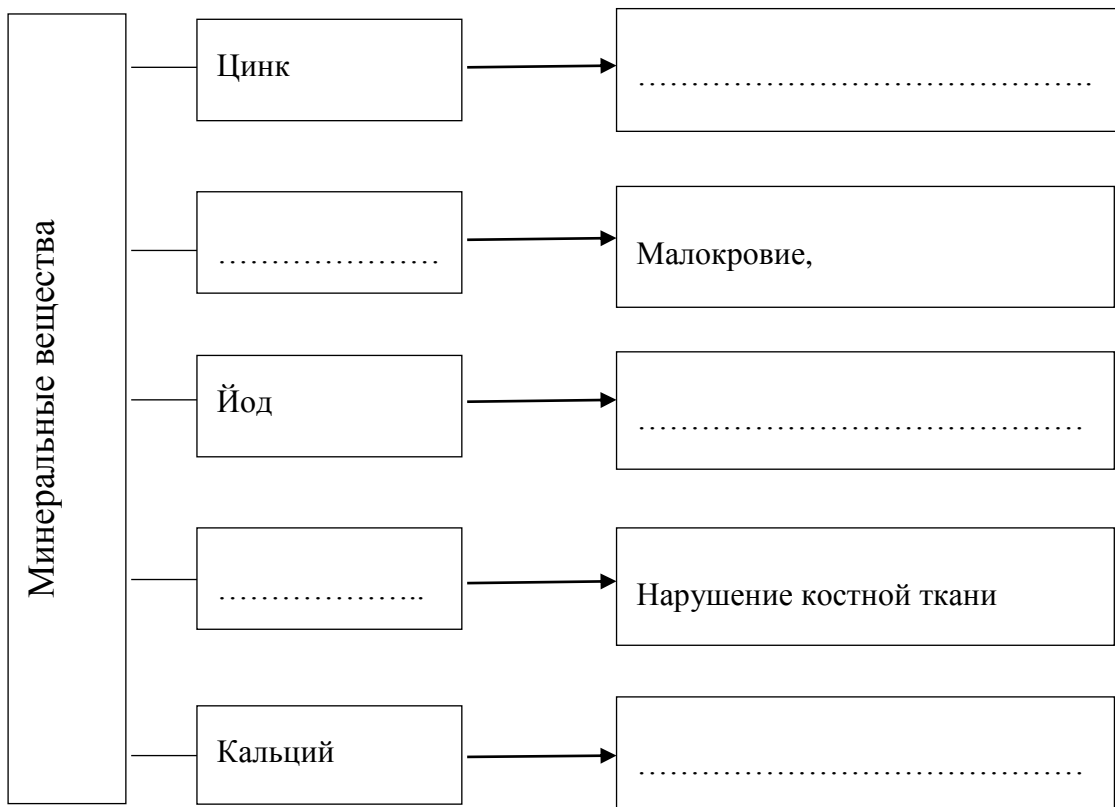
Задание 1.

Дополните фразу.

_____ - массовое уничтожение растительного или животного мира, отравление атмосферы или водных ресурсов, а также совершение иных действий, способных вызвать экологическую катастрофу. В уголовном праве России является преступлением.

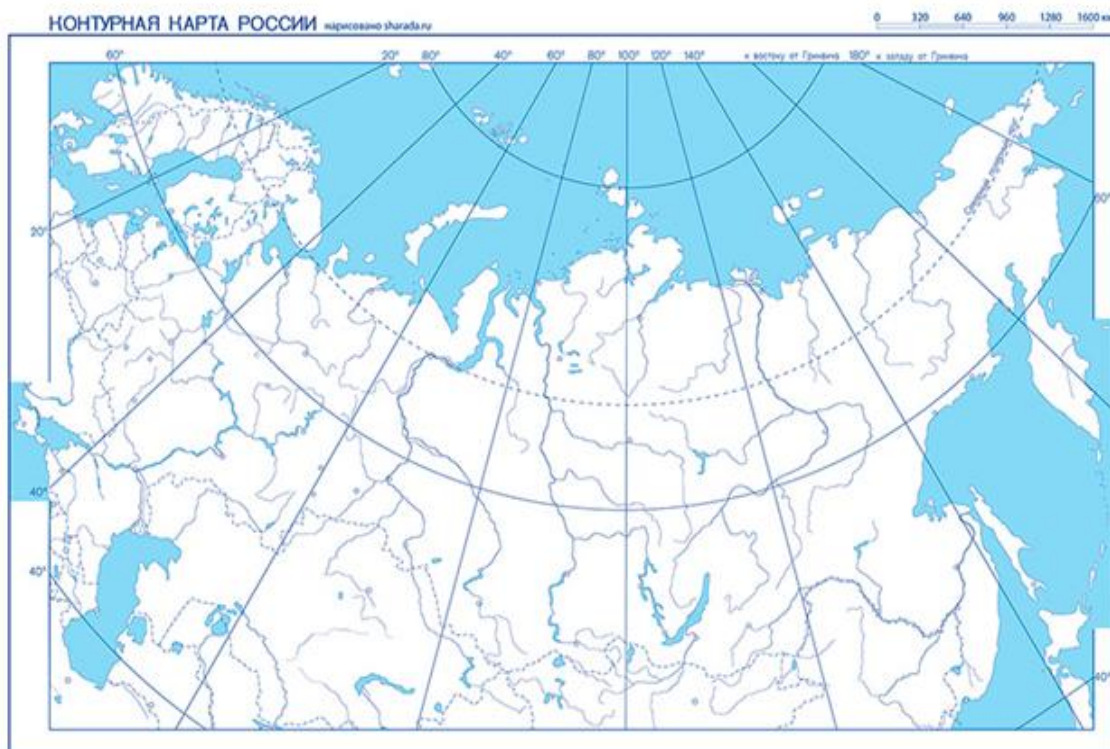
Задание 2.

Дополните схему о последствиях, которые вызывают недостаток в пище минеральных веществ.



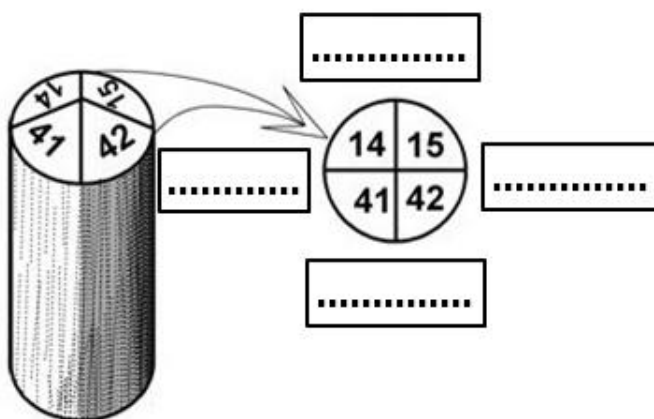
Задание 3.

Выделите (обведите или закрасьте) на контурной карте сейсмоопасные районы РФ.



Задание 4.

Укажите стороны горизонта, используя изображение квартального столба.



Задание 5.

Установите последовательность оказания первой помощи при растяжении связок коленного сустава.

1. _____

2. _____

3. _____

4. _____

Задание 6.

В чрезвычайных ситуациях люди, в зависимости от темперамента, могут вести себя по разному. Опишите это поведение.

Холерики_____

Меланхолики_____

Сангвиники_____

Флегматики_____

Задание 7.

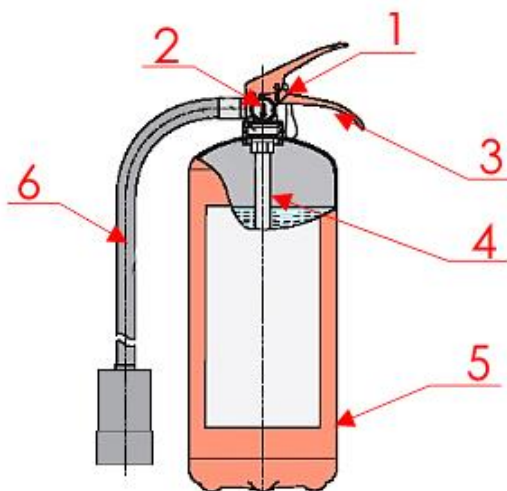
Дополните схему о судовых спасательных средствах.



Задание 8.

Напишите название основных частей воздушно-пенного огнетушителя.

1. _____
2. _____
3. _____
4. _____
5. _____
6. _____

**Задание 9.**

Укажите группы критических органов радиочувствительности.

☐ Хрусталик глаза

☐ Кожный покров

☐ Легкие

☐ Красный костный мозг

☐ Почки

☐ Печень

☐ Желудок, кишечник

☐ Предплечья

☐ Половые органы

☐ Кисти рук

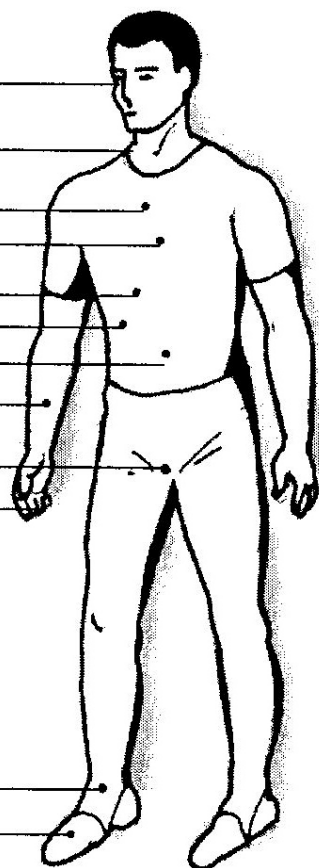
☐ I 1-я группа

☐ II 2-я группа

☐ III 3-я группа

☐ Лодыжки

☐ Стопы

**Задание 10.**

Изобразите формы зон поражения при различной скорости ветра. Укажите их названия.

При скорости ветра			
Менее 0,5 м/с	0,6-1 м/с	1,1-2 м/с	Свыше 2 м/с
.....

