



Лист 1 – Задания

Дата проведения: **21 ноября 2019 года**

Возрастная группа: **5-6 классы**

Время проведения: **45 минут**

Конкурсное задание состоит из **20 вопросов**.

Количество верных ответов **может быть больше одного!**



Задания, оцениваемые в 3 балла

1. В предупредительных мерах о подготовке населения к природному бедствию сказано: «Сложить документы и необходимые вещи в герметичную упаковку». О каких стихийных бедствиях может предупреждать такая инструкция?

- | | |
|------------------------|----------------|
| (1) извержение вулкана | (2) цунами |
| (3) смерч | (4) наводнение |

2. Рассмотрите картинку. При каких болезненных состояниях можно оказывать такую помощь?



- | | |
|--------------------|------------------------|
| (1) солнечный удар | (2) тепловой удар |
| (3) обморожение | (4) пищевое отравление |

3. Рассмотрите ситуацию, которая возникла в школьной столовой: загорелось масло на сковороде! Какие из перечисленных действий может сделать повар, чтобы предотвратить развитие чрезвычайной ситуации?



- | |
|---|
| (1) залить сковороду водой |
| (2) закрыть сковороду металлической крышкой |
| (3) накрыть сковороду противнем из духовки |
| (4) выключить плиту |

4. Какие средства профилактики гриппа тебе известны? Среди представленных утверждений выбери верные:

- | |
|---|
| (1) до начала сезона заболеваемости сделать прививку от гриппа; |
| (2) принимать антибиотики (противобактериальные препараты); |
| (3) добавить в рацион питания больше овощей и фруктов; |
| (4) часто мыть руки. |

5. Рассмотрите внимательно картинку. Какое правило безопасного поведения здесь отражено?

- | |
|--|
| (1) не играть в местах большого скопления людей |
| (2) информировать о подозрительных предметах |
| (3) не разговаривать с незнакомыми людьми |
| (4) не оставаться без присмотра взрослых в местах большого скопления людей |



6. Какая информация содержится на оборотной стороне пластиковой карты?

- | | |
|-------------------------|-----------------------|
| (1) номер карты | (2) номер счета карты |
| (3) срок действия карты | (4) код безопасности |

Задания, оцениваемые в 4 балла

7. Для защиты органов дыхания часто используют ватно-марлевую повязку. Какие характеристики будут правильными для данного средства?

- | |
|---|
| (1) повязка всегда должна быть сухой, чтобы защититься от дыма при пожаре |
| (2) чтобы защититься от инфекции, повязку необходимо увлажнять водой |
| (3) повязка должна закрывать подбородок, рот и нос |
| (4) чтобы надеть повязку, ее верхние концы завязывают на затылке, а нижние концы – на темени головы |






8. Какие стихийные бедствия могут продолжить данный ряд:
землетрясение – извержение вулкана – оползень -..... ?

- (1) ураган, смерч (2) наводнение, цунами
(3) сход лавины, селевой поток (4) буря, шторм

9. На город обрушился мощный ураган. Кто-то из людей, оказавшихся на улице, пытается найти укрытие. Сколько всего опасных мест ты увидел на картинках? Выбери ответ с правильным числом.



- (1) 5 (2) 4 (3) 3 (4) 2

10. Внимательно прочитай фрагмент из «Правил поведения в походе». Если в предложении на месте пропуска необходимо вставить частицу «НЕ», пиши 1, если ничего добавлять не нужно, то 0. Ответ представь в виде числового кода (например, 1010).

..... сбивать несъедобные грибы, встретившиеся на маршруте. Топоры, пилы, ножи носить зачехленными, на привале острые орудия втыкать в деревья. Во время ночлега прятать острые предметы под палатку. Дежурным у костра находиться в головных уборах и хлопчатобумажной одежде, полностью покрывающей тело.

11. Какие данные можно увидеть на лицевой стороне пластиковой карты?

- (1) ФИ владельца (2) номер карты
(3) срок действия (4) номер счета

12. Предложен ряд, в котором перечислены ценные источники витаминов:

капуста – морковь – черная смородина – шиповник – апельсин.

Исключи из этого ряда продукт с наименьшим содержанием витамина «С». Выбери правильный ответ.

- (1) апельсин (2) капуста (3) черная смородина (4) морковь

13. На картинке изображено неотложное состояние, которое требует оказания первой помощи. Какое медицинское средство первой помощи скрыто черным квадратом?



- (1) перекись водорода
(2) анальгин (обезболивающий препарат)
(3) раствор йода
(4) нашатырный спирт

14. Установи соответствие между инфекционными заболеваниями и основными способами их передачи. Выбери верный ответ.

1. коклюш 2. корь 3. дизентерия 4. клещевой энцефалит
А. воздушно-капельная инфекция
Б. пищевая инфекция
В. кровяная инфекция

- (1) 1А 2А 3Б 4В (2) 1Б 2А 3В 4В
(3) 1В 2В 3Б 4А (4) 1А 2Б 3В 4А



Задания, оцениваемые в 5 баллов


15. Во время соревнований Юра получил травму, есть подозрение, что произошел вывих ноги. Выбери только верные действия первой помощи на месте происшествия:

- (1) к поврежденному участку ноги приложить пакетик со льдом;
- (2) обеспечить покой и неподвижность поврежденному суставу;
- (3) если есть возможность, применить согревающий компресс в первые часы после травмы;
- (4) если есть необходимость, предложить мальчику обезболивающее средство.


16. Рассмотрите на картинке участок дороги.



Какой знак дорожного движения скрыт черным квадратом? Выбери верный ответ.



17. Рассмотрите изображения блюд. Выбери из них блюда, богатые белком.



(1) 1, 2, 4

(2) 1, 2, 5

(3) 2, 3, 4

(4) 2, 4, 6

18. Тебе пришло сообщение, что твой телефонный номер участвовал в розыгрыше пакета безлимитного интернета. Для получения приза предлагают перейти по ссылке, указанной в сообщении. Какие действия в такой ситуации будут безопасными?

- (1) перейти по ссылке, указанной в сообщении, чтобы узнать условия получения выигрыша
- (2) зарегистрироваться на официальном сайте оператора сотовой связи и проверить информацию о проводимых розыгрышах
- (3) связаться с оператором сотовой связи, чтобы уточнить полученную информацию
- (4) удалить полученное сообщение



19. В торговом центре ты обнаружил подозрительный предмет. Выбери, в каком случае в действиях допущена ошибка:

- (1) опросить людей, находящихся рядом, чтобы установить владельца вещи, и сообщить о находке администратору или охраннику;
- (2) если среди находящихся рядом людей владелец вещи не установлен, то постараться удалить окружающих на значительное расстояние, информировать спасательные службы;
- (3) если среди опрошенных людей владельца не оказалось, то, не отходя от найденной вещи, нужно позвонить по мобильному телефону в спасательные службы, а потом отойти на безопасное расстояние;
- (4) попросить находящихся рядом людей сообщить о находке администратору или охраннику, самому оставаться на месте, рядом с найденной вещью, до прибытия спасательных служб.

20. Прочитай фрагмент, в котором даны рекомендации населению о действиях при заблаговременном оповещении при чрезвычайной ситуации:

«<...> закрыть все двери, закрыть и заклеить окна, с балконов и лоджий убрать все вещи, отключить газ и свет, <...>. если оказались на открытой местности, укрыться в канаве <...>, вернувшись домой, не пользуйтесь электроприборами, пока они не будут просушены и проветрены, проверены специалистами».

О каком природном бедствии информируют спасательные службы?

- (1) штормовое предупреждение
- (2) угроза цунами
- (3) приближение селевого потока
- (4) сообщение о наводнении