



Лист 1 – Задания

Дата проведения: 16 ноября 2017 года

Возрастная группа: 4-5 классы

Время проведения: 45 минут


Конкурсное задание состоит из 20 вопросов.

Количество верных ответов может быть больше одного!

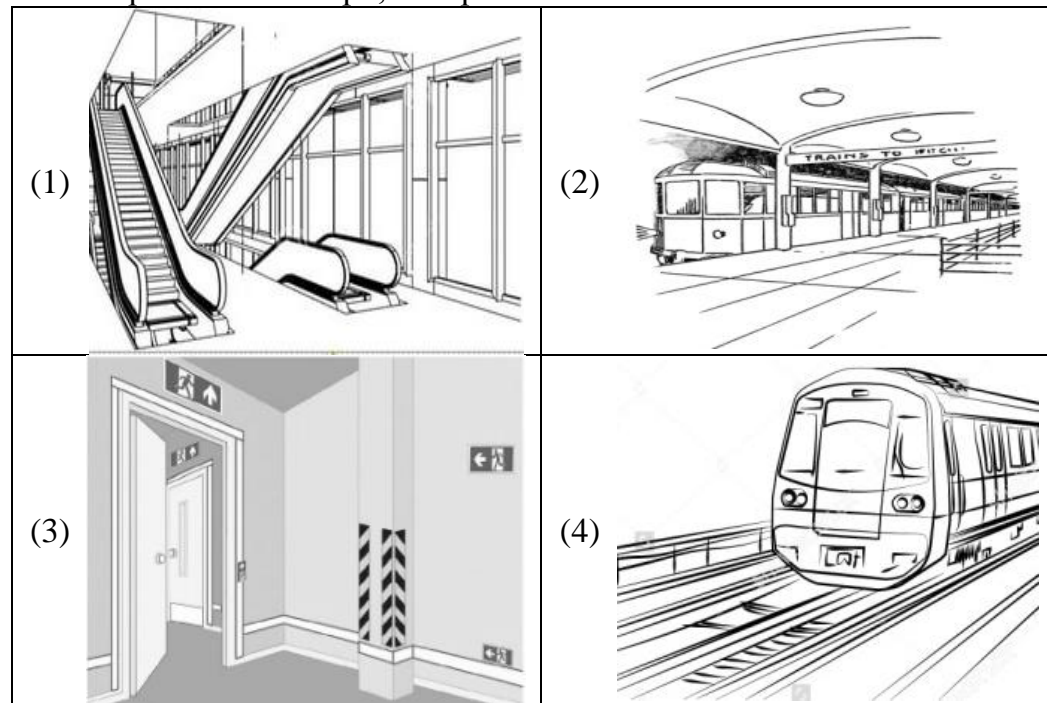


Опасности, чрезвычайные ситуации (ЧС) и защита от них

1. Выбери юного химика, который правильно подготовился к безопасному проведению опытов.



2. Выбери места в метро, которые считаются зонами опасности.



3. Дожливый день Павел проводит дома. Внезапно мальчик почувствовал сильный запах газа в квартире. Выбери действия, которые относятся к безопасному поведению в такой ситуации.

- (1) отключить газ
- (2) включить свет
- (3) открыть окно
- (4) открыть газовую конфорку

4. Зимой, находясь на берегу реки, ты стал очевидцем того, как несколько ребят пытаются пройти по замерзшей воде. Вдруг послышался треск льда, ребятам требуется помощь! Подскажи, что делать ребятам в этом случае?

- (1) бегом вернуться назад
- (2) ползком вернуться назад
- (3) быстро бежать вперед
- (4) ползком двигаться вперед

5. Выбери места в вагоне, которые являются наиболее опасными в случае резкой остановки поезда.


- (1) нижнее место по ходу движения поезда
- (2) верхнее место по ходу движения поезда
- (3) нижнее место против хода движения поезда
- (4) верхнее место против хода движения поезда

6. В правилах пожарной безопасности выделяют три условия возникновения горения (пожара). Изучи внимательно «треугольник огня». Какой пример условия горения в нем отсутствует. Запиши правильное слово в Бланк ответов.




Основы здорового образа жизни (ОЗОЖ)

7. Рассмотрите изображения. Выбери самые распространенные источники аллергии.





8. Выбери изображение, на котором общение с животными опасно заражением паразитарными заболеваниями.



9. Выбери фактор пожара, который является наиболее опасным для человека.

- (1) огонь (2) дым (3) угарный газ (4) сажа

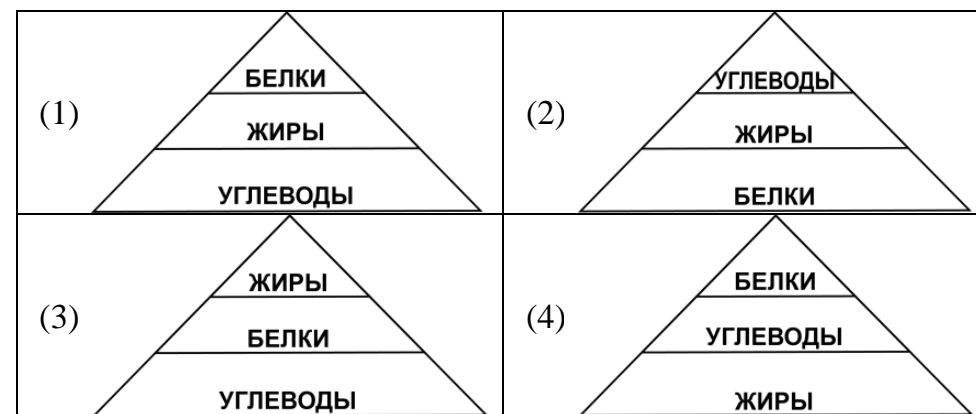
10. Для укрепления здоровья рекомендуется принимать солнечные ванны. Выбери время суток, благоприятное для загара.

- (1) с 9 до 11 утра (2) с 12 до 13 дня
(3) с 14 до 15 дня (4) с 16 до 19 вечера

11. Выезжая на природу, ты должен помнить о последствиях от укусов клещей. В какое время клещи наиболее активны?

- (1) начало марта (2) конец мая
(3) начало июня (4) конец ноября

12. Выбери пирамиду питания с правильным количественным соотношением питательных веществ в составе суточного рациона.



Основы медицинских знаний (ОМЗ)

13. Жарким летом Наташа долго играла во дворе. Внезапно она почувствовала себя плохо, у девочки произошел обморок. Выбери все возможные средства оказания девочке первой помощи.

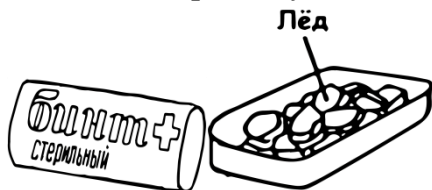
- (1) перекись водорода (2) нашатырный спирт
(3) холодная вода (4) сода

14. На зимних каникулах ребята играют на берегу реки. Егор не заметил, как оказался на тонком треснувшем льду, и попал в холодную воду. Ребята помогли другу выбраться на берег, мальчик сильно замерз. Выбери верные действия Егора.

- (1) попытаться согреться, прыгая в мокрой одежде
(2) быстро кататься по снегу в мокрой одежде
(3) неподвижно сидеть в мокрой одежде
(4) снять мокрую одежду, попрыгать, надеть одежду обратно, предварительно отжав ее



15. Рассмотрите комплект средств для оказания первой помощи. Для каких видов травм будет достаточно такого комплекта средств?



- (1) ушиб
- (2) растяжение
- (3) порез
- (4) носовое кровотечение

16. Матвей с друзьями отдыхает в парке. Неожиданно мальчик почувствовал укус. Что нужно сделать для уменьшения боли и отека?

- (1) приложить холодный компресс
- (2) приложить горчичное масло
- (3) приложить пластырь
- (4) приложить спиртовой компресс



17. Роман повредил руку, занимаясь на спортивных снарядах. Есть подозрение, что это вывих. Как можно оказать мальчику первую помощь до приезда в больницу?

- (1) приложить к поврежденному участку согревающий компресс
- (2) приложить к поврежденному участку холод
- (3) укрепить поврежденную руку на груди с помощью косынки
- (4) прибинтовать поврежденную руку к туловищу

18. Во время спортивных тренировок часто случаются ушибы, растяжения и вывихи. Выбери общие признаки для указанных видов травм. Из выделенных букв в выбранных словах составь слово и запиши его в Бланк ответов.

ОтеК

укорочение
КОнечности

кРовоподТек


изменение формы
сУстаВА

удлиНЕние
конечности

боЛЬ

Основы гражданской обороны по защите населения

19. Выбери иллюстрацию правильной эвакуации из школы.



20. Распредели в нужном порядке указанные этапы эвакуации из здания при угрозе пожара. Запиши последовательность цифр в Бланк ответов.

- (1) перекличка
- (2) оповещение о пожаре
- (3) построение на сборном пункте
- (4) выход из здания